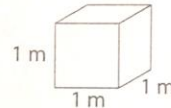


Déterminer le volume en mètres cubes



Révision éclair

Un cube avec des arêtes d'un mètre de longueur a un volume d'un mètre cube (1 m^3).



Tu peux utiliser des mètres cubes pour mesurer le volume de grands objets.

Cette boîte de carton mesure 1 m de longueur, 1 mètre de largeur et 1 m de hauteur. Son volume est de 1 m^3 .



Douze de ces boîtes sont empilées en 2 étages de 6. La pile a un volume de 12 m^3 .

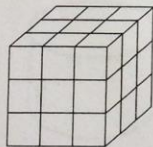


Exerce-toi

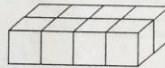
1. Chaque prisme à base rectangulaire est construit avec des cubes de 1 m^3 de volume.

Trouve le volume de chaque prisme.

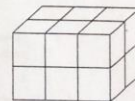
a)



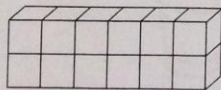
b)



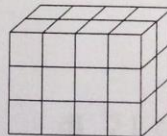
c)



d)



e)



f)

