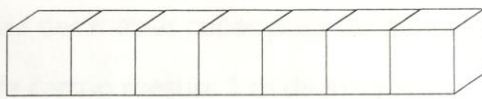


Construire des prismes à base rectangulaire d'un volume donné

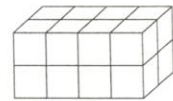
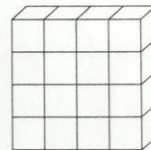
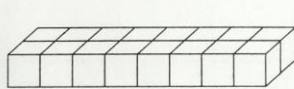


Révision éclair

- ▶ Tu peux faire 1 seul prisme à base rectangulaire avec 7 centicubes. Le volume de ce prisme à base rectangulaire est de 7 cm^3 .

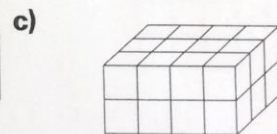
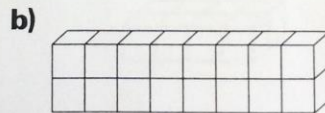
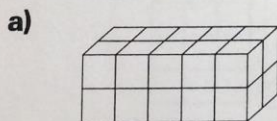


- ▶ Tu peux faire 4 prismes à base rectangulaire différents avec 16 cubes. Le volume de chaque prisme à base rectangulaire est de 16 cm^3 .



Exerce-toi

1. Ces prismes à base rectangulaire sont faits de centicubes. Trouve le volume de chaque prisme.



2. Combien de prismes à base rectangulaire différents peux-tu faire avec 10 centicubes ? _____

Écris les dimensions de chaque prisme.
