


La capacité et le litre



Révision éclair

Lorsque tu mesures combien un contenant peut contenir de liquide, tu mesures sa **capacité**.


Cette bouteille a une capacité de **un litre (1 L)**.
La bouteille contient 1 L d'eau.



Un litre remplit environ 4 verres.

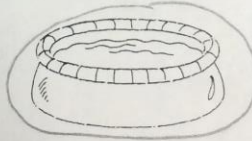
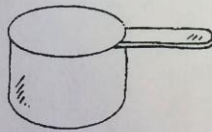


Voici d'autres choses qui se mesurent en litres :



Exerce-toi

1. Encerle le contenant qui contient plus de un litre.

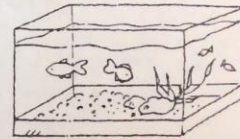


2. Encerle la meilleure estimation.

a) 4 L ou 40 L



b) 2 L ou 20 L



c) 1 L ou 50 L



d) 2 L ou 200 L

